

VAJA DELA MOJSTRA

GEOMETRIJA



1. Nariši:

a) nesklenjeno krivo črto b) nesklenjeno lomljeno črto c) točko A

2. Nariši tri točke in jih med seboj poveži. Katere daljice si narisal?

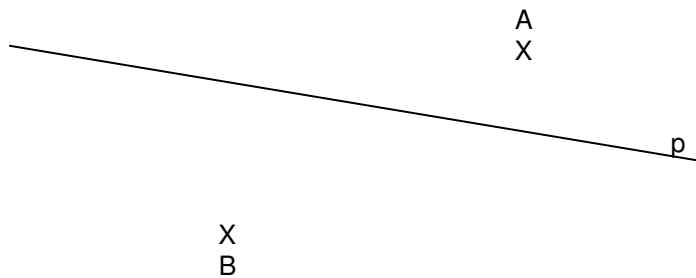
Daljice: _____

3. Nariši daljico IMNI z dolžino $m = 4$ cm. Podaljšaj jo za 3 cm. Koliko meri nova daljica?

4. Nariši dve poljubni premici in ju označi na dva načina.

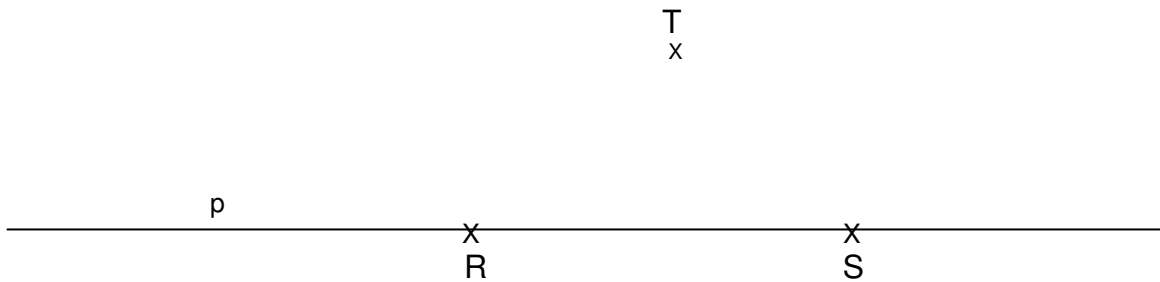
5. Nariši daljico ICDI z dolžino $c = 5$ cm. Skozi krajišči nariši pravokotnici in ju označi. Odnose med daljico in premico zapiši matematično.

6. Skozi točki A in B nariši vzporednici premici p. Vzporednici označi. Odnose med premicami zapiši matematično.

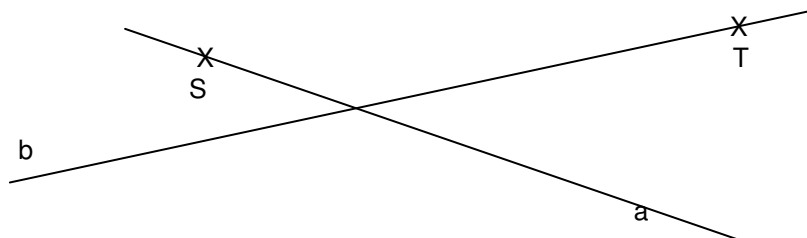


7. Nariši poltrak CD v poševni legi.

8. Skozi točko T nariši vzporednico a premici p. Skozi točki R in S nariši pravokotnici r in s. Označi vsa presečišča. Kateri lik dobiš?



9. Skozi točko S nariši pravokotnico na premico a, skozi točko T pa pravokotnico na premico b. Označi pravokotnici in njuni presečišči.



Si zadovoljen s svojim delom?